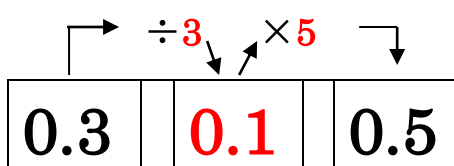
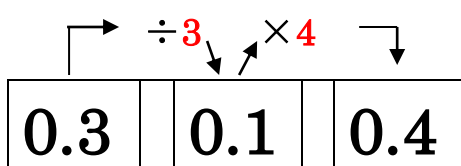
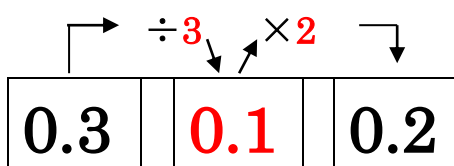
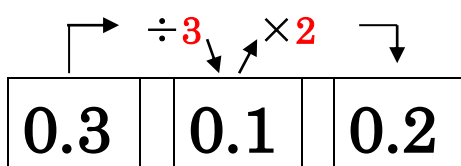
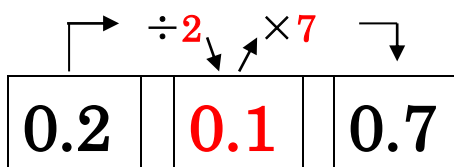
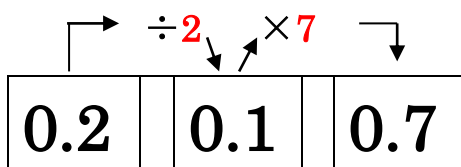
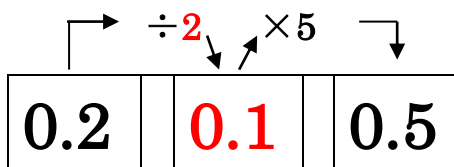
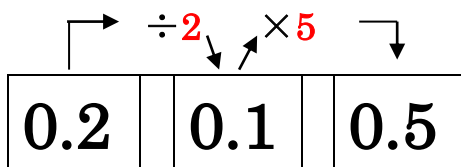
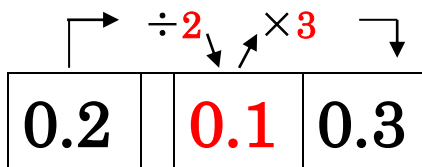
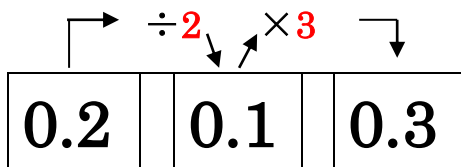


次の表の関係を完成しなさい。

月 日 () 氏名【

】



次の表の関係を完成しなさい。

月 日 () 氏名 []

0.2	0.1	0.3
2	1	3

0.2	0.1	0.3
2	1	3

0.2	0.1	0.5
2		

0.2	0.1	0.5
2	1	5

0.2	0.1	0.7
2	1	7

0.2	0.1	0.7
2	1	7

0.3	0.1	0.2
3	1	2

0.3	0.1	0.2
3	1	2

0.3	0.1	0.4
3	1	4

0.3	0.1	0.5
3	1	5

次の表の関係を完成しなさい。

月 日 () 氏名【

】

0.2	0.1	0.3
2	1	3
20	10	30

0.2	0.1	0.3
2	1	3
10	5	15

0.2	0.1	0.5
2	1	5
20	10	50

0.2	0.1	0.5
2	1	5
100	50	250

0.2	0.1	0.7
2	1	7
20	10	70

0.2	0.1	0.7
2	1	7
200	100	700

0.3	0.1	0.2
3	1	2
30	10	20

0.3	0.1	0.2
3	1	2
15	5	10

0.3	0.1	0.4
3	1	4
30	10	40

0.3	0.1	0.4
3	1	4
300	100	400

次の表の関係を完成しなさい。

月 日 () 氏名【

】

0.2	0.1	0.3
2	1	3
20	10	30

0.2	0.1	0.3
2	1	3
10	5	15

0.2	0.1	0.5
2	1	5
20	10	50

0.2	0.1	0.5
2	1	5
100	50	250

0.2	0.1	0.7
2	1	7
20	10	70

0.2	0.1	0.7
2	1	7
200	100	700

0.3	0.1	0.2
3	1	2
30	10	20

0.3	0.1	0.2
3	1	2
15	5	10

0.3	0.1	0.4
3	1	4
30	10	40

0.3	0.1	0.4
3	1	4
300	100	400

次の表の関係を完成しなさい。

月 日 () 氏名【

】

0.2	0.1	0.3
20	10	30

0.2	0.1	0.3
10	5	15

0.2	0.1	0.5
20	10	50

0.2	0.1	0.5
100	50	250

0.2	0.1	0.7
20	10	70

0.2	0.1	0.7
200	100	700

0.3	0.1	0.2
30	10	20

0.3	0.1	0.2
15	5	10

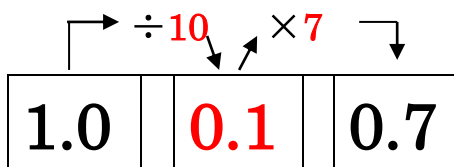
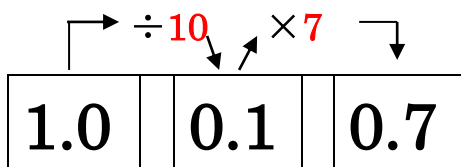
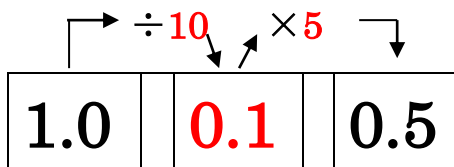
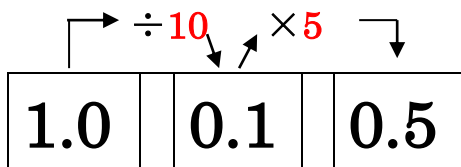
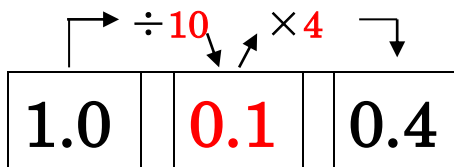
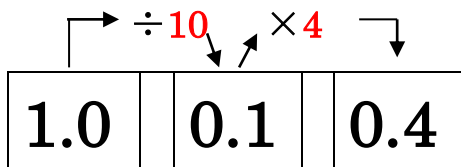
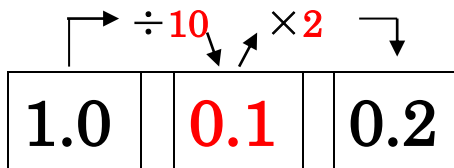
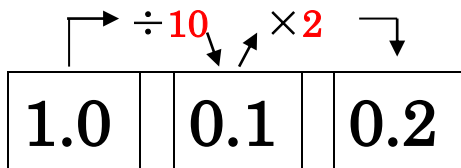
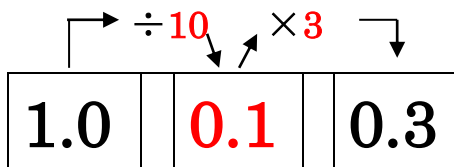
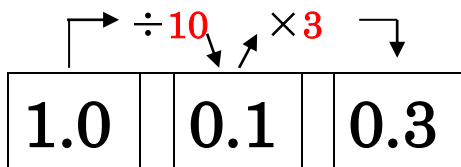
0.3	0.1	0.4
30	10	40

0.3	0.1	0.4
300	100	400

次の表の関係を完成しなさい。

月 日 () 氏名【

】



次の表の関係を完成しなさい。

月 日 () 氏名【

】

1.0	0.1	0.3
10	1	3

1.0	0.1	0.3
10	1	3

1.0	0.1	0.2
10	1	3

1.0	0.1	0.2
10	1	2

1.0	0.1	0.4
10	1	4

1.0	0.1	0.4
10	1	4

1.0	0.1	0.5
10	1	5

1.0	0.1	0.5
10	1	5

1.0	0.1	0.7
10	1	7

1.0	0.1	0.7
10	1	7

次の表の関係を完成しなさい。

月 日 () 氏名 【]

1.0	0.1	0.3
10	1	3
20	2	6

1.0	0.1	0.3
10	1	3
30	2	6

1.0	0.1	0.2
10	1	2
20	2	4

1.0	0.1	0.2
10	1	2
30	3	6

1.0	0.1	0.4
10	1	4
30	3	12

1.0	0.1	0.4
10	1	4
40	4	16

1.0	0.1	0.5
10	1	5
30	3	15

1.0	0.1	0.5
10	1	5
40	4	20

1.0	0.1	0.7
10	1	7
50	5	35

1.0	0.1	0.7
10	1	7
60	6	42

次の表の関係を完成しなさい。

月 日 () 氏名【

】

1.0	0.1	0.3
10	1	3
20	2	6

1.0	0.1	0.3
10	1	3
30	2	6

1.0	0.1	0.2
10	1	2
20	2	4

1.0	0.1	0.2
10	1	2
30	3	6

1.0	0.1	0.4
10	1	4
30	3	12

1.0	0.1	0.4
10	1	4
40	4	16

1.0	0.1	0.5
10	1	5
30	3	15

1.0	0.1	0.5
10	1	5
40	4	20

1.0	0.1	0.7
10	1	7
50	5	35

1.0	0.1	0.7
10	1	7
60	6	42

次の表の関係を完成しなさい。

月 日 () 氏名【

】

1.0	0.1	0.3
20	2	6

1.0	0.1	0.3
30	2	6

1.0	0.1	0.2
20	2	4

1.0	0.1	0.2
30	3	6

1.0	0.1	0.4
30	3	12

1.0	0.1	0.4
40	4	16

1.0	0.1	0.5
30	3	15

1.0	0.1	0.5
40	4	20

1.0	0.1	0.7
50	5	35

1.0	0.1	0.7
60	6	42

次の表の関係を完成しなさい。

月 日 () 氏名【

】

1.0	0.1	0.3
20	2	6

1.0	0.1	0.3
30	2	6

1.0	0.1	0.2
20	2	4

1.0	0.1	0.2
30	3	6

1.0	0.1	0.4
30	3	12

1.0	0.1	0.4
40	4	16

1.0	0.1	0.5
30	3	15

1.0	0.1	0.5
40	4	20

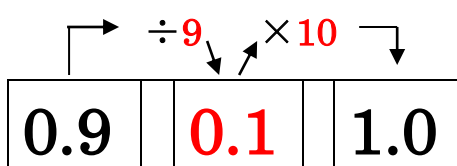
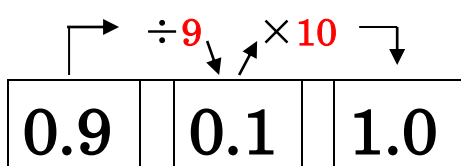
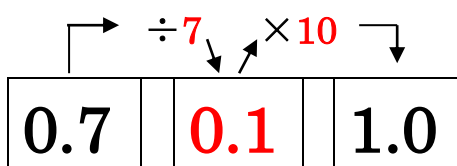
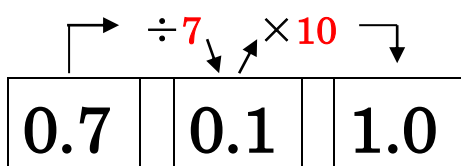
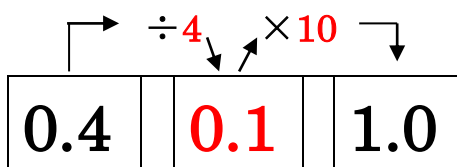
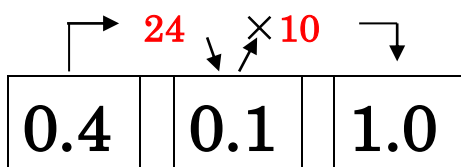
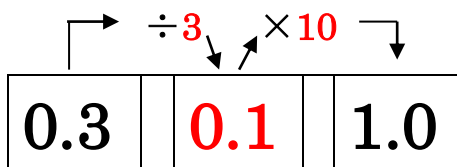
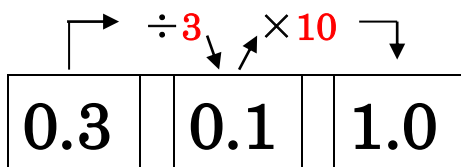
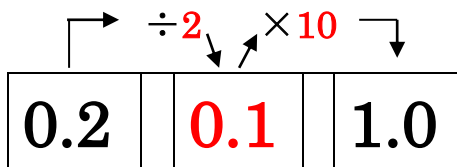
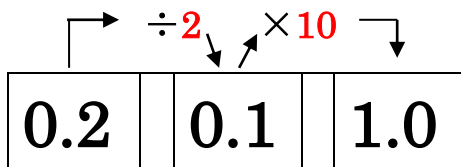
1.0	0.1	0.7
50	5	35

1.0	0.1	0.7
60	6	42

次の表の関係を完成しなさい。

月 日 () 氏名【

】



次の表の関係を完成しなさい。

月 日 () 氏名【

】

0.2	0.1	1.0
2	1	10

0.2	0.1	1.0
2	1	10

0.3	0.1	1.0
3	1	10

0.3	0.1	1.0
3	1	10

0.4	0.1	1.0
4	1	10

0.4	0.1	1.0
4	1	10

0.7	0.1	1.0
7	1	10

0.7	0.1	1.0
7	1	10

0.9	0.1	1.0
9	1	10

0.9	0.1	1.0
9	1	10

次の表の関係を完成しなさい。

月 日 () 氏名 []

0.2	0.1	1.0
2	1	10
6	3	30

0.2	0.1	1.0
2	1	10
6	3	30

0.3	0.1	1.0
3	1	10
6	2	20

0.3	0.1	1.0
3	1	10
6	2	20

0.4	0.1	1.0
4	1	10
8	2	20

0.4	0.1	1.0
4	1	10
8	2	20

0.7	0.1	1.0
7	1	10
14	2	20

0.7	0.1	1.0
7	1	10
14	2	20

0.9	0.1	1.0
9	1	10
18	2	20

0.9	0.1	1.0
9	1	10
18	2	20

次の表の関係を完成しなさい。

月 日 () 氏名 [

]

0.2	0.1	1.0
6	3	30

0.2	0.1	1.0
6	3	30

0.3	0.1	1.0
6	2	20

0.3	0.1	1.0
6	2	20

0.4	0.1	1.0
8	2	20

0.4	0.1	1.0
8	2	20

0.7	0.1	1.0
14	2	20

0.7	0.1	1.0
14	2	20

0.9	0.1	1.0
18	2	20

0.9	0.1	1.0
18	2	20

次の表の関係を完成しなさい。

月 日 () 氏名【

】

	↖	÷	↘ ↗ ×	↙
0.2			0.1	
				0.3

	↖	÷	↘ ↗ ×	↙
0.2			0.1	
				0.3

	↖	÷	↘ ↗ ×	↙
0.2			0.1	
				0.5

	↖	÷	↘ ↗ ×	↙
0.2			0.1	
				0.5

	↖	÷	↘ ↗ ×	↙
0.2			0.1	
				0.7

	↖	÷	↘ ↗ ×	↙
0.2			0.1	
				0.7

	↖	÷	↘ ↗ ×	↙
0.3			0.1	
				0.2

	↖	÷	↘ ↗ ×	↙
0.3			0.1	
				0.2

	↖	÷	↘ ↗ ×	↙
0.3			0.1	
				0.4

	↖	÷	↘ ↗ ×	↙
0.3			0.1	
				0.5

次の表の関係を完成しなさい。

月 日 () 氏名 【

】

0.2		0.1		0.3
2				

0.2				0.3
2				

0.2		0.1		0.5
2				

0.2				0.5
2				

0.2		0.1		0.7
2				

0.2				0.7
2				

0.3		0.1		0.2
3				

0.3				0.2
3				

0.3		0.1		0.4
3				

0.3				0.5
3				

次の表の関係を完成しなさい。

月 日 () 氏名【

】

0.2		0.1		0.3
2				
20				

0.2		0.1		0.3
2				
10				

0.2		0.1		0.5
2				
20				

0.2		0.1		0.5
2				
100				

0.2		0.1		0.7
2				
20				

0.2		0.1		0.7
2				
200				

0.3		0.1		0.2
3				
30				

0.3		0.1		0.2
3				
15				

0.3		0.1		0.4
3				
30				

0.3		0.1		0.4
3				
300				

次の表の関係を完成しなさい。

月 日 () 氏名【

】

0.2			0.3
20			

0.2			0.3
10			

0.2			0.5
20			

0.2			0.5
100			

0.2			0.7
20			

0.2			0.7
200			

0.3			0.2
30			

0.3			0.2
15			

0.3			0.4
30			

0.3			0.4
300			

次の表の関係を完成しなさい。

月 日 () 氏名 【

】

0.2			0.3
20			

0.2			0.3
10			

0.2			0.5
20			

0.2			0.5
100			

0.2			0.7
20			

0.2			0.7
200			

0.3			0.2
30			

0.3			0.2
15			

0.3			0.4
30			

0.3			0.4
300			

次の表の関係を完成しなさい。

月 日 () 氏名【

】

	\div	\times	
1.0		0.1	0.3

	\div	\times	
1.0			0.3

	\div	\times	
1.0		0.1	0.2

	\div	\times	
1.0			0.2

	\div	\times	
1.0		0.1	0.4

	\div	\times	
1.0			0.4

	\div	\times	
1.0		0.1	0.5

	\div	\times	
1.0			0.5

	\div	\times	
1.0		0.1	0.7

	\div	\times	
1.0			0.7

次の表の関係を完成しなさい。

月 日 () 氏名 【]

1.0	0.1	0.3
10		

1.0		0.3
10		

1.0	0.1	0.2
10		

1.0		0.2
10		

1.0	0.1	0.4
10		

1.0		0.4
10		

1.0	0.1	0.5
10		

1.0		0.5
10		

1.0	0.1	0.7
10		

1.0		0.7
10		

次の表の関係を完成しなさい。

月 日 () 氏名【

】

1.0		0.1		0.3
10				
20				

1.0		0.1		0.3
10				
30				

1.0		0.1		0.2
10				
20				

1.0		0.1		0.2
10				
30				

1.0		0.1		0.4
10				
30				

1.0		0.1		0.4
10				
40				

1.0		0.1		0.5
10				
30				

1.0		0.1		0.5
10				
40				

1.0		0.1		0.7
10				
50				

1.0		0.1		0.7
10				
60				

次の表の関係を完成しなさい。

月 日 () 氏名【

】

1.0			0.3
20			

1.0			0.3
30			

1.0			0.2
20			

1.0			0.2
30			

1.0			0.4
30			

1.0			0.4
40			

1.0			0.5
30			

1.0			0.5
40			

1.0			0.7
50			

1.0			0.7
60			

次の表の関係を完成しなさい。

月 日 () 氏名【

】

1.0	0.1	0.3
20		

1.0	0.1	0.3
30		

1.0	0.1	0.2
20		

1.0	0.1	0.2
30		

1.0	0.1	0.4
30		

1.0	0.1	0.4
40		

1.0	0.1	0.5
30		

1.0	0.1	0.5
40		

1.0	0.1	0.7
50		

1.0	0.1	0.7
60		

次の表の関係を完成しなさい。

月 日 () 氏名 【

】

1.0			0.3
20			

1.0			0.3
30			

1.0			0.2
20			

1.0			0.2
30			

1.0			0.4
30			

1.0			0.4
40			

1.0			0.5
30			

1.0			0.5
40			

1.0			0.7
50			

1.0			0.7
60			

次の表の関係を完成しなさい。

月 日 () 氏名【

】

	↖	÷	↘	↗	×	↖	
0.2							1.0

	↖	÷	↘	↗	×	↖	
0.2							1.0

	↖	÷	↘	↗	×	↖	
0.3							1.0

	↖	÷	↘	↗	×	↖	
0.3							1.0

	↖	÷	↘	↗	×	↖	
0.4							1.0

	↖	÷	↘	↗	×	↖	
0.4							1.0

	↖	÷	↘	↗	×	↖	
0.7							1.0

	↖	÷	↘	↗	×	↖	
0.7							1.0

	↖	÷	↘	↗	×	↖	
0.9							1.0

	↖	÷	↘	↗	×	↖	
0.9							1.0

次の表の関係を完成しなさい。

月 日 () 氏名【

】

0.2		0.1		1.0
2				

0.2				1.0
2				

0.3		0.1		1.0
3				

0.3				1.0
3				

0.4		0.1		1.0
4				

0.4				1.0
4				

0.7		0.1		1.0
7				

0.7				1.0
7				

0.9		0.1		1.0
9				

0.9				1.0
9				

次の表の関係を完成しなさい。

月 日 () 氏名【

】

0.2		0.1		1.0
2				
6				

0.2				1.0
6				

0.3		0.1		1.0
3				
6				

0.3				1.0
6				

0.4		0.1		1.0
4				
8				

0.4				1.0
8				

0.7		0.1		1.0
7				
14				

0.7				1.0
14				

0.9		0.1		1.0
9				
18				

0.9				1.0
18				

次の表の関係を完成しなさい。

月 日 () 氏名【

】

0.2		0.1		1.0
6				

0.2				1.0
6				

0.3		0.1		1.0
6				

0.3				1.0
6				

0.4		0.1		1.0
8				

0.4				1.0
8				

0.7		0.1		1.0
14				

0.7				1.0
14				

0.9		0.1		1.0
18				

0.9				1.0
18				